



第19回「おたる案内人」検定試験問題 1級・2級 共通問題

2022年3月13日

小樽観光大学校

*合格発表は下記のホームページでご確認できます。
*URL:<http://www.otaru-kd.com/>

各設問で選択問題は1～4の番号で、また記述問題は該当する語句を記入しなさい。(制限時間90分)

問1

小樽は「場所」とよばれた時代から定住者が増え「村並」となりました。小樽の開基はある人物が穂足内村の名主となった元治2（1865）年とされています。その人物とは次のどれでしょうか。

1. 山田兵蔵
2. 山田吉兵衛
3. 西川伝右衛門
4. 岡田弥三右衛門

問2

明治2（1869）年、7月～9月の蝦夷地（現在の北海道）での出来事で正しいのは次のどれでしょうか。

1. 海官所が設置された
2. 小樽は村並から「区」となった
3. 幌内鉄道の建設が始まった
4. 蝦夷地が「北海道」と改称された

問3

「北海道」という名称は、ある人物が「北海道」という名称の元となった6案を明治政府に提案したことで生まれました。その人物は次のどれでしょうか。

1. 榎本武揚
2. 松浦武四郎
3. 島 義勇
4. 岩村通俊

問4

次の文章の（ ）内に該当する語句を書きなさい。

明治期の小樽は北海道開拓の玄関口として、物流の拠点として港が発展していきました。理由の一つとして、手宮の港が丘に囲まれ水深も充分という条件を備えていた（ ）だったことも大きな要因です。

問5

北海道開拓は、お雇い外国人の知恵と技術を借り、積極的に活用したことで開拓は大きく進みました。開拓次官だった黒田清隆はアメリカに渡り、農務省長官だった人物を開拓使顧問として迎える契約をしました。この契約したアメリカ人とは次のどれでしょうか。

1. ライマン
2. ケプロン
3. クロフォード
4. コンドル

問6

北海道で活躍したお雇い外国人はおもに次のどの地域の出身者が多かったでしょうか。

1. アメリカ西部のサンフランシスコ周辺
2. ドイツ南部
3. アメリカ東部のニューイングランド周辺
4. カナダの西部

問7

昭和初期、小樽花園町で料理店「蛇の目」の経営者が小樽観光のはじまりともいえるオタモイの崖地に龍宮閣を建てました。この経営者は何という名前でしょうか。(姓のみ不可)

問8

次の文章の（ ）内に該当する語句を書きなさい。

江戸時代中頃には北海道の産物として練製品が注目され、北前船の日本海航路が整備されると（ ）らによる大型網の導入によって、幕末にかけて漁獲量は大きく伸びました。

問9

問8の時代、人々が鯨を求めたのは本州、とくに西日本でした。その大きな理由は次のどれでしょうか。

1. 農業の肥料としての需要が大きかった
2. 家畜の飼料として需要が大きかった
3. 食材として身欠き鯨が多く食べられた
4. 干し数の子が保存食として需要が大きかった

問10

江差追分の一節です。()内に当てはまるのは次のどれでしょうか。

「忍路高島及びもないがせめて()磯谷まで」

1. 島 牧 2. 岩 内 3. 歌 棄 4. 蘭 越

問11

次の文章は番屋の語源です。()内に当てはまる語句を書きなさい。

「場所請負人が拠点とした運上屋から派遣された番人が、漁を行なったり()を監視した小屋を「番屋」という」

問12

次の文章は祝津の青山家の説明です。()内に該当する語句を書きなさい。

青山家は山形県(A)町に生まれた(B)が江戸時代から祝津に出稼ぎし明治になって同地に居を構えた。

問13

平磯岬に建つ銀鱗荘は余市町の大漁家猪俣家住宅を昭和13(1938)年に移築したものです。

これはある企業の記念事業として行われたものでした。この企業とは次のどれでしょうか。

1. 板谷商船 2. 越中屋旅館 3. 小樽倉庫 4. 北海ホテル

問14

鯨漁の小樽での最高漁獲高は約7万5,000石です。この漁獲高を記録したのは次のどれでしょうか。

1. 明治21(1888)年 2. 明治35(1902)年 3. 大正3(1914)年 4. 大正14(1925)年

問15

食用の生鯨の呼び方として正しいのは次のどれでしょうか。

1. 粒 鯨 2. 胴 鯨 3. ササメ 4. 身 欠

問16

鯨漁が始まる前、事前の準備がすべて終わると、豊漁を願い、恒例の大宴会が行なわれました。この宴会のことを何というでしょうか。

問17

小樽の鯨漁家が遠隔地にも漁場を経営できた理由で正しいのは次のどれでしょうか。

1. 長期間安定した漁獲と魚肥の本州での高い需要があったから
2. 大型船を導入し、遠方まで行けるようになったから
3. 本州の大手企業が小樽の鯨を大量に購入するようになったから
4. 魚肥を中国へ輸出するようになったから

問18

北前船の説明として正しいのは、次のどれでしょうか。

1. 大型の木造和船で、北陸地方と蝦夷地を航海していた。
2. 小型の木造和船で、江戸から蝦夷地まで航海していた。
3. 大型の木造和船で大坂から瀬戸内海を經由し日本海を北上し、蝦夷地まで航海していた。
4. 小型の木造和船で大坂から江戸を經由し太平洋を北上し、蝦夷地まで航海していた。


問19

江戸期と異なり明治以後、小樽に寄港した北前船の利益のもとになったのは次のどれでしょうか。

1. 鯨製品や昆布を本州へ運んだ 2. 建築用の木材を本州へ運んだ
3. 本州から瓦を移入した。 4. 北海道の開拓物資を移入した

問20

次の写真は北前船主が建てた倉庫で日本遺産の構成文化財になっています。この写真の船主名と倉庫名の組合せで正しいのは次のどれでしょうか。



1. 右近権左衛門—右近倉庫
2. 広海二三郎—広海倉庫
3. 大家七平—大家倉庫
4. 増田又右衛門—増田倉庫

問21

北前船の商法の特徴として正しいのは次のどれでしょうか。

1. 「運賃積み」という方法で、格安で荷物を運んだ
2. 「運賃積み」という方法で、寄港地では荷物の配達をし宅配便の原型を築いた
3. 「買い積み」という方法で、寄港地で品物を安く仕入れ、有利な土地で高く売りながら航海した
4. 「買い積み」という方法で、船乗りはすべての荷物を自由に買い付けることができた

問22

旧小樽倉庫の説明です。() 内に該当する語句を選びなさい。


この倉庫を建てたのは北前船主の(A)と西谷庄八で、二人とも石川県橋立の出身です。また屋根の上には(B)がつけられ、寄港する船のランドマークにもなっていました。

- A 1. 西出孫左衛門 2. 大家七平 3. 中村三之丞 4. 右近権左衛門
 B 1. 大きな雪止め 2. 望楼 3. 越屋根 4. 鯨

問23

北前船は航海が成功すると1航海で船主の利益は大きな金額になったといわれています。それは次のどれでしょうか。

1. 約500両 2. 約1,000両 3. 約1,500両 4. 約2,000両

問24

左の写真は北運河に3棟並ぶ倉庫の一つです。北前船主だったこの人物は後に日本火災海上保険株式会社を創設し、初代社長に就任しています。この人物名(姓・名両方)を書きなさい。(姓のみ不可)

問25

北前船は、航海において様々な費用がかかりました。そのなかで「作事の口」という費用がありました。これは次のどれでしょうか。

1. 船の修理費用
2. 陸揚げした荷物を陸送してもらう費用
3. 蔵をもっている地元の商人に積荷を預かってもらう費用
4. 給金、税、祝儀などの費用

問26

北前船が段々と衰退していった理由として間違っているのは次のどれでしょうか。

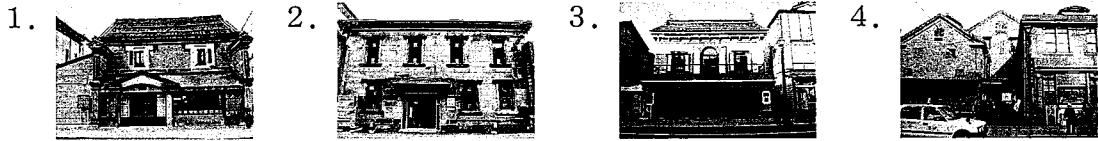
1. 通信技術が発達し、北前船商人の情報力に陰りがでてきた
2. 明治政府が木造大型和船の新たな建造を許可しなくなった
3. 鉄道の発達により、大量の物資運搬が求められ大型の蒸気船の時代になった
4. 肥料としての鯨粕の需要が激減していった

問27

小樽における商人のはじまりは場所を請負っていた近江商人です。恵比須屋岡田家ともうひとつは何でしょうか。(屋号を記載しなくても可)

問28

堺町通りにある店舗写真です。小樽商人の金子元三郎に関係する建物は何番でしょうか。



問29

次の建物の中で、小樽で活躍した商人、沼田喜三郎が創設した共成と関連のある建物は次のどれでしょうか。(建物名は現在名)

1. 小樽運河ターミナル 2. 六花亭 3. 小樽浪漫館 4. 小樽オルゴール堂

問30

小樽芸術村ステンドグラス美術館は小樽で活躍した商人の倉庫でした。小豆將軍というあだ名がつけられるほど穀物相場で巨万の富を築いたその商人名を書きなさい。(姓・名両方)

問31

次の商人のうち、醤油醸造会社で成功したのはどれでしょうか。

1. 倉橋大介 2. 渡辺兵四郎 3. 金子元三郎 4. 石橋彦三郎

問32

小樽で活躍した商人たちは、まちに寄付をして貢献しました。商人名と寄付した内容の組合せで正しいのはどれでしょうか。

1. 土肥太吉…高等商業学校敷地 2. 2代目板谷宮吉…小樽市中学校
3. 木村円吉…能舞台 4. 藤山要吉…小樽市庁舎

問33

「小樽港」の範囲は防波堤の内側をイメージしがちですが、実際は平磯岬と茅柴岬を結んだ直線の内側を指します。この線のことを何というでしょうか。

問34

小樽港は国際貿易港に指定された年を開港の年としています。令和元年には小樽港は開港120年を迎えました。開港となった年は次のどれでしょうか。

1. 明治29(1896)年 2. 明治30(1897)年
3. 明治31(1898)年 4. 明治32(1899)年

問35

明治25(1892)年、第四代北海道長官が、「北海道西部において物資の集散場に適した土地は小樽以外に無い」と近代的な港湾を小樽に建設することを訴えた意見書を提出したことにより、小樽港建設の第1歩を踏み出しました。この意見書を提出した北海道長官とは誰でしょうか。この人物名(姓・名両方)を書きなさい。(姓のみ不可)

問36

明治41(1908)年、11年の歳月をかけ、北防波堤が完成しました。完成当時の北防波堤の長さは次のどれでしょうか。

1. 1,289m 2. 1,389m 3. 1,489m 4. 1,589m

問37

小樽の港づくりには忘れてはならない3人の技術者がいます。廣井勇、伊藤長右衛門と、もう一人は廣井勇の下で防波堤の基礎となる石積み工事の監督指揮を行いました。若くして命を落としました。その功績を讃える石碑は今も港を見下ろす手宮公園内にあります。この人物名(姓・名両方)を書きなさい。(姓のみ不可)

問38

南防波堤建設で多大な功績を残した伊藤長右衛門についての説明です。間違っているのはどれでしょうか。

1. 伊藤長右衛門は東京帝国大学を卒業し、北海道庁技師となり小樽築港事務所に勤務した。
2. 伊藤長右衛門は広井勇の後を継ぎ、第3代小樽築港事務所長となりケーソンを用いた。
3. 伊藤長右衛門は南防波堤建設にケーソンでの工事方法を用いようとしたが、途中でコンクリートブロックの斜め積みに変更して建設した。
4. 伊藤長右衛門は福井県の出身である。

問39

小樽と舞鶴、敦賀を結ぶ北海道で初めての長距離フェリー航路が開設されました。その年は次のどれでしょうか。

1. 昭和40(1965)年
2. 昭和45(1970)年
3. 昭和50(1975)年
4. 昭和55(1980)年

問40

北海道の鉄道建設に関わった人物とその主な役割の組み合わせで間違っているのはどれでしょうか。

1. 榎本武揚…開拓長官
2. ゲント…河川工学専門家
3. ライマン…地質学者
4. クロフォード…鉄道技師長

問41

幌内鉄道が建設される前年、開拓使はクロフォードに札幌間道路の建設を命じました。この工事をクロフォードは驚異的な日程で完成させました。それは何か月だったのでしょうか。

問42

明治6(1873)年、幌内で発見された石炭をどうやって運び出すか、さまざまな意見がでますが、北海道の開拓顧問ケプロンと地質調査をしたライマンが最適とした運搬ルートは次のどれでしょうか。

1. 幌内から石狩川を利用して石狩まで運搬
2. 幌内から札幌経由で小樽まで鉄道を建設
3. 幌内から江別までを鉄道、江別から石狩川を利用して石狩まで運搬
4. 幌内から室蘭までの鉄道建設

問43

小樽、幌内間の鉄道敷設のルート決定をうけ、本格的な鉄道工事は若竹第三トンネルの開削から始まりました。これを指揮したのは次の誰でしょうか。

1. クロフォード
2. 松本荘一郎
3. 平井晴二郎
4. ゲント

問44

幌内鉄道建設の初期の現場はクロフォードがアメリカからつれてきた米国人技術者チームでした。彼らが活動するにあたり仮宿舎となった所が、小樽市内のある高校の位置だったといわれています。その高校名は何というのでしょうか。

問45

全通した幌内鉄道は明治16(1883)年に開通式が行われました。朝7時に盛大な見送りを受けて出発した「比羅夫」号は札幌に8時40分到着。その後、幌内に到着したのは次のどれでしょうか。

1. 9時50分
2. 10時50分
3. 11時50分
4. 12時50分

問46

幌内鉄道開通後、小樽経由の函館～札幌間の鉄道建設も各方面から要請され、道庁が計画することになりました。この段階では小沢からは岩内～寿都～黒松内を通るルートでしたが、後年実際の建設時では倶知安周りのルートに変更されます。その主な原因は次のどれでしょうか。

1. 高波で不通になることが予想されたから
2. 練漁に支障をきたす区間が多かったから
3. 崖が続キトンネル工事費が莫大にかかるから
4. 軍事的な理由から

問47

幌内鉄道に導入された蒸気機関車は6号まで「和名」がつけられていました。次の4つの中で正しいのはどれでしょうか。

1. 1号「義経」 2号「弁慶」 3号「比羅夫」
2. 1号「義経」 2号「弁慶」 6号「比羅夫」
3. 1号「弁慶」 2号「義経」 3号「しづか」
4. 1号「弁慶」 2号「義経」 6号「光圀」

問48

明治42(1909)年、港の整備方法をめぐって埠頭方式にするか運河方式にするかという論争があったときに「小樽港の貨物の種類や荷造りの方法などをみて、舢舨を利用した運河式の方が便利である」と指摘し、その後の検討に大きな影響を与えました。その指摘した人物とは誰でしょうか。(姓のみ不可)

問49

昭和47(1972)年、札幌からの幹線道路建設で小樽にあった約30棟の石造倉庫の街並みを取り壊されたのが、小樽運河保存運動が立ち上がるきっかけとなったといわれています。その石造倉庫群はどこにあったのでしょうか。

1. 勝内地区
2. 信香地区
3. 港町地区
4. 有幌地区

問50

次の文章は現在の小樽運河に架かる橋の説明です。橋の名称を書きなさい。

「この橋の手宮方向には左側に北前船日本遺産に指定されている構成文化財が見えます。また、この橋の街園にはモニュメントもあり、春にはツツジが咲く憩いの場にもなっています。」

問51

小樽運河保存運動が盛り上がる中、小樽の経済界の一部も含めた幅広い層の市民が集まり、運河埋め立ての見直しを求める「小樽運河百人委員会」という署名を集める活動が生まれました。この会が2ヶ月間の署名活動で集めた署名数は次のどれでしょうか。

1. 7万7千人
2. 8万7千人
3. 9万7千人
4. 10万7千人

問52

次の文章に当てはまる小樽市内の木骨石造の建物名(旧名)を書きなさい。

「明治38(1905)年建築で、現在は雑貨の店として営業しています。大きな特徴は袖壁に鶴や亀などがデザインされており観光客も興味深く眺める建物です。すぐ近くにはレンガ造りの旧磯野商店もあります」

問53

() 内に該当する語句を記入しなさい。

鉄道の建造物にレンガを使う計画は明治16(1883)年に始まります。その目的は(A)から守るためでした。更にこの材質で入船の陸橋と手宮の倉庫、さらに現在、国指定重要文化財になっている(B)を建設しました。

問54

問53の（B）の建設には平井晴二郎ともう一人が関わっていました。それは次のどれでしょうか。

1. クロフォード 2. 辰野金吾 3. 佐立七次郎 4. 松本荘一郎

問55

次の文章は、小樽市内の歴史ある建物の特徴を書いています。建物名を書きなさい。

「壁をレンガで造り、玄関ホールと営業室の境に柱を使わない大空間が見どころです。柱を取り除いたのは、小屋組みに鉄骨を使用したことで旧来の木造よりも軽量になったためです。浅草通りに面したこの建物は現在、一般公開しています」

問56

小樽市指定歴史的建造物のなかで、日本遺産「北前船」の構成文化財ではないのは次のどれでしょうか。

1. 旧小樽倉庫 2. 旧増田倉庫 3. 旧浪華倉庫 4. 旧右近倉庫

問57

次に示す3つの建物と関連した語句の組み合わせで、番号内のA・B・Cすべて正しいものは何番でしょうか。

A) 小樽市庁舎（本館） B) 旧三井物産小樽支店 C) 旧小樽倉庫

1. A) 成田幸一郎 B) 矢橋賢吉 C) 北前船主
2. A) 左右相称 B) 昭和12年建築 C) 木骨石造
3. A) 昭和8年建築 B) 鉄筋コンクリート C) 一膳箸
4. A) 鉄骨鉄筋コンクリート B) 炭鉄港構成文化財 C) 小樽市指定歴史的建造物

問58

次の文章は大正期の銀行建築、第一銀行小樽支店の説明です。文中の（ ）内に該当する語句を書きなさい。

第一銀行は（ A ）が設計しました。その装飾の特徴はヨーロッパで流行していた曲線を生かす（ B ）の様式でした。

問59

次の建物のなかで建築構造が一つだけ違うものがあります。それはどれでしょうか。

（建物名は現在名）

1. 旧三井銀行小樽支店 2. 小樽運河ターミナル
3. 似鳥美術館 4. ミユキソーイング㈱

問60

大正期の建築の特徴の一つとして、商店の外壁にコンクリートやモルタルを塗るなど、セメントが新たな建築材料と使われるようになりました。この工法で建てられた典型的な大正期の建物は次のどれでしょうか。（建物名は建築時）

1. 旧岩永時計店 2. 旧通信電設浜ビル 3. 旧北海雑穀㈱ 4. 旧塚本商店

問61

大正期末から昭和にかけて、住宅においても洗練された建築が出てきました。その代表的な住宅として小樽市指定歴史的建造物に指定されている入船町の坂牛邸です。設計はアメリカ人建築家に師事した日本の建築家でした。その建築家とは次のどれでしょうか。

1. 成田幸一郎 2. 加藤忠五郎 3. 田上義也 4. 辰野金吾

問62

和光荘（潮見台、大正11（1922）年）は、酒造会社の2代目社長の住宅として建てられました。そのデザインの基調は、当時、パリを中心にヨーロッパで流行の兆しが見られた幾何学模様を取り入れています。そのデザインとは、次のどれでしょうか。

1. ルネサンス
2. アール・ヌーヴォー
3. ロマネスク
4. アール・デコ

問63

小樽市内にはイギリスのハワードに端を発する田園都市の計画思想に基づいて昭和9年に設計された町（地区）があります。それは次のどれでしょうか。

1. 緑町第2大通り
2. 望洋台一帯
3. 桜町ロータリー
4. オタモイ団地

問64

今ではすっかり有名となりました於古発川沿いの「小樽寿司屋通り」ですが、昭和62（1987）年、有志による活動により「小樽寿司屋通り会」が誕生し、その後、現在の「小樽寿司屋通り」に発展しました。そのきっかけとなった供養祭は次のどれでしょうか。

1. 練供養祭
2. 魚供養祭
3. 寿司供養祭
4. 包丁供養祭

問65

市立小樽美術館には小樽ゆかりの作家2名の記念ホールがあります。ひとは中村善策ですが、もうひとは誰でしょうか。

問66

次の文学碑がある場所で、間違っているのはどれでしょうか。

1. 石川啄木…小樽公園内
2. 小田観螢…水天宮
3. 並木凡平…朝里不動尊境内
4. 小林多喜二…旭展望台

問67

石川啄木は明治40（1907）年、創立したばかりの小樽日報社に記者として入社しましたが、間もなく会社の方針に合わず4ヶ月足らずで退社することになりました。しかし、その後出された詩集には小樽時代を回想して歌った短歌が20数首入っています。その歌集の名は何でしょうか。

問68

伊藤整は小樽中学校卒業後、小樽高商へ進学。その後、小樽高商を卒業した伊藤整が就いた職業は次のどれでしょうか。

1. 小樽中学校英語教員
2. 小樽市中学校英語教員
3. 小樽日報社記者
4. 小樽新聞記者

問69

小林多喜二の作品に「不在地主」があります。この作品のモデルといわれている商人の建物が現在も色内町にあり、レストランとして活用されています。この建物の現在の名称は何でしょうか。

問70

令和3（2021）年12月末現在の小樽市の人口は次のどれでしょうか。

1. 116,410人
2. 114,410人
3. 112,410人
4. 110,410人

問71

令和2（2020）年度の小樽市の観光入込客数が令和3（2021）年5月に発表されました。前年度比62.9%減という大幅な減少でした。その観光入込客数は次のどれでしょうか。

1. 159万5400人
2. 259万5400人
3. 359万5400人
4. 459万5400人

問72

令和3（2021）年11月に第24回小樽市都市景観賞が発表されました。都市景観賞には2件選定されました。UNWIND HOTEL & BAR小樽（アンワインド ホテル&バー小樽）ともう1件は何でしょうか。

問73

令和3（2021）年11月、国の文化審議会が国の重要文化財に指定するよう答申したなかの後志の建造物が2件あり、令和4（2022）年2月に2件とも指定されました。1件は余市町の「ニッカウキスキー余市蒸留所施設」、もう1件は次のどれでしょうか。

1. 日本銀行旧小樽支店
2. 旧三井銀行小樽支店
3. 旧北海道拓殖銀行
4. 旧小樽倉庫

問74

民間シンクタンクのブランド総合研究所は令和3（2021）年10月に全国市区町村と都道府県の魅力度ランキングを発表した。都道府県別は13年連続で北海道が1位。市区町村のベスト10には道内から小樽市も含め4自治体が入りました。小樽市は全体の何番目にランクされたでしょうか。（令和3年10月10日 北海道新聞掲載）

問75

次の4つのなかで、石狩湾の広い範囲で発生する珍しい蟹気楼について、関連する語句の組合せが正しいのはどれでしょうか。

1. 上位蟹気楼－榎本武揚
2. 松浦武四郎－高島おばけ
3. 松浦武四郎－東蝦夷日誌
4. 伊能忠敬－高島おばけ

問76

小樽市内の坂の説明です。該当する坂の名称を書きなさい。
「勾配15%を超える市内屈指の急坂で、中央通りと龍宮通りとの中間の防火帯として造られました。坂の上り口付近には戦後「ガンガン部隊」の仕入れ拠点ともなった市場が今もあります。」

問77

星野リゾート（長野県）が小樽市色内で都市型観光ホテルを令和4（2022）年に開業しました。そのホテルの一部は小樽市指定歴史的建造物に指定されています。その建物とは次のどれでしょうか。

1. 旧大家倉庫
2. 旧塚本商店
3. 旧小樽商工会議所
4. 旧安田銀行小樽支店

問78

小樽の水がおいしいと云われていますが、おもな要因として間違っているのは、次のどれでしょうか。

1. 豊かな自然と水源環境に恵まれ原水の水質が良好である
2. ミネラル分を適度にバランス良く含んでいる
3. 地形の関係で人口の割には水道施設が多く、施設内に水が留まっている時間が少ない
4. 毛無山の雪解け水が年間を通して浄水場に送られるようになっている

問79

小樽市は魅力あるまちづくりをすすめるために市内を8つの地区に分け、その地区を代表する景観を8つ選び出した「小樽八区八景」を選定しています。次の4つのなかで、八区の地区名となっていないのはどれでしょうか。

1. 稲穂・富岡地区
2. 祝津・高島地区
3. オタモイ・赤岩地区
4. 蘭島・忍路地区

問80

令和3(2021)年10月、小樽市内の銭湯がまた1軒廃業しました。明治33(1900)年創業で、道内最古といわれたこの銭湯名は何というのでしょうか。

問81

小樽運河に面した大きな木骨石造倉庫をニトリホールディングスが取得し「小樽芸術村」の4館目の施設として令和4(2022)年に美術館に改装する予定になっています。その倉庫名は何というのでしょうか。(建築時名)

問82

おたる潮まつりは、「港まつり」「競争花火大会」「北海道工業品共進会」「見本市」などを統合したまつりが前身となり、その後おたる潮まつりとなりました。この前身となったまつりの名称は次のどれでしょうか。

1. みなと小樽商工観光まつり
2. 小樽みなと商工観光まつり
3. みなと商工観光市
4. おたる商工観光市

問83

現在、小樽の姉妹都市は3市あります。3市の姉妹都市名の組合せで正しいのはどれでしょうか。

1. ダニーデン・ウラジオストク・釜山
2. ウェリントン・ナホトカ・ソウル特別市江西区
3. ダニーデン・ナホトカ・ソウル特別市江西区
4. オークランド・ウラジオストク・上海

問84

令和4(2022)年、小樽市は市制施行100年となります。大正11(1922)年、市制施行で道内6都市が市となりました。この年、市となったのは小樽の他、札幌、旭川、函館、釧路ともう一つの都市はどこでしょうか。

問85

次の文章は通称、小樽の3大祭りのひとつと呼ばれる神社の説明です。この神社名を書きなさい。

「この神社は平成30年に鎮座150年の節目を迎え、建物や参道の改修が行われました。境内には小樽ゆかりの商人たちの多様な寄進物も見ることができます。また近年は花手水で有名となり、5月から10月まで開催されています。」

問86

小樽商科大学は平成10(1998)年に学章が制定されました。「商大」文字の両側に広がる翼は何の翼と呼ばれているのでしょうか。ギリシャ神話で商業、学術の神とされています。

1. イーグル
2. ポセイドン
3. ホーク
4. ヘルメス

問87

次の後志管内の施設で共和町にあるのは次のどれでしょうか。

1. 荒井記念美術館
2. 小川原脩記念美術館
3. 有島記念館
4. 西村計雄記念美術館

問88

現在、小樽市内の清酒酒造会社は1社ですが、その1社の主要銘柄は次のどれでしょうか。

1. 宝川
2. 鯨御殿
3. 正泉
4. 國稀

問89

次の小樽市内の文化財で、国指定、道指定、市指定の順番（左から）で正しいのはどれでしょうか。

1. 旧手宮鉄道施設…日本銀行旧小樽支店…にしん漁場建築（田中家母屋）
2. 旧日本郵船(株)小樽支店…木造五百羅漢像…木造聖観音立像
3. 手宮洞窟…にしん漁場建築（田中家母屋）…地鎮山環状列石
4. 旧三井銀行小樽支店…旧手宮鉄道施設…にしん漁場建築（田中家母屋）

問90

令和3（2021）年9月、小樽市教育委員会より新たな小樽市指定文化財が3件発表されました。いずれも小樽市総合博物館所蔵です。「稲垣益穂日誌」「花園公園設計図」ともう一つは何でしょうか。

問91

次の文章の『 』内に該当する語句を書きなさい。

令和3（2021）年、小樽市は地域型日本遺産の候補地域に認定されました。そのストーリーは「北海道の『 』と呼ばれたまち・小樽～「民の力」で創られ蘇った北の商都」

問92

観光ガイドを依頼された時、事前に準備しておくこととして大事なことは次のどれでしょうか。

1. 目立つ服装を考えてみる 2. 個性を出す練習をする
3. 身振り手振りを練習する 4. ガイドコースをシミュレーションしてみる

問93

（ ）内に該当する語句を記入しなさい。

「おたる案内人」が観光ガイドとしてお客様と接する時に重要なことは（ A ）ではなく、観光にいらした方々とのコミュニケーションです。大切なことは（ B ）ではなく（ C ）です。そして心のこもった笑顔でのコミュニケーションは、最小にして最大の（ D ）です。

- | | | | | |
|---|------------|-----------|------------|------------|
| A | 1. 知識の受け渡し | 2. 道案内 | 3. おもてなし | 4. 観光施設案内 |
| B | 1. どう伝えたか | 2. 笑顔 | 3. 正確な知識 | 4. 時間を守ること |
| C | 1. 知識 | 2. おもしろい話 | 3. どう伝わったか | 4. サービス |
| D | 1. 勇気 | 2. プレゼント | 3. 喜び | 4. おもてなし |